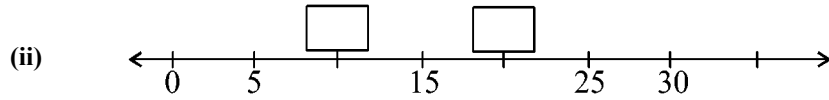
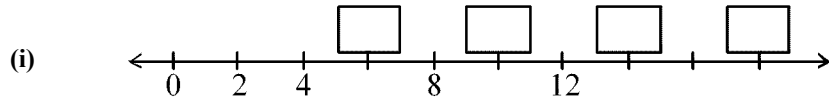


Time: 10 Minutes	Paper Math 3 (T - 1)	Total Marks: 10
1st Month, 3rd Week, 1st Day	Syllabus: Unit1:Exercise No.4. Q.No. 1,2	

Q.No.1. Write the values of objects on the given number line. $(2 \times 2 = 4)$

دی گئی نمبر لائن میں اشیاء کی قیمت لکھیں۔



Q.No.2. Represent the given numbers on the number line: $(2 \times 3 = 6)$

دیئے گئے اعداد کو نمبر لائن پر ظاہر کریں:

(i) 5, 15, 25

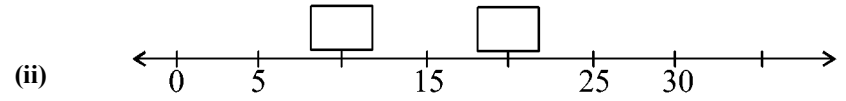
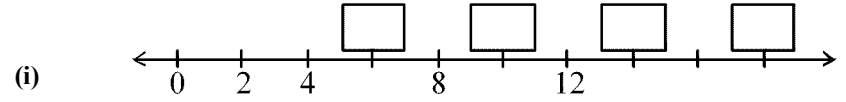
(ii) 4, 12, 20, 28

(iii) 3, 6, 9, 12, 15

Time: 10 Minutes	Paper Math 3 (T - 1)	Total Marks: 10
1st Month, 3rd Week, 1st Day	Syllabus: Unit1:Exercise No.4. Q.No. 1,2	

Q.No.1. Write the values of objects on the given number line. $(2 \times 2 = 4)$

دی گئی نمبر لائن میں اشیاء کی قیمت لکھیں۔



Q.No.2. Represent the given numbers on the number line: $(2 \times 3 = 6)$

دیئے گئے اعداد کو نمبر لائن پر ظاہر کریں:

(i) 5, 15, 25

(ii) 4, 12, 20, 28

(iii) 3, 6, 9, 12, 15